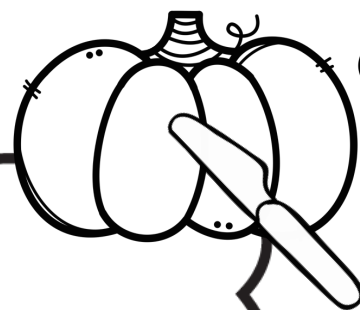


Nom: _____

Observation d'une citrouille

1. Observe l'intérieur d'une citrouille coupée en deux.
2. Dessine ce que tu vois à l'intérieur.



4. Combien y a-t-il de graines? _____



Nom: _____

observation d'une citrouille


Dessine la citrouille.




La citrouille est:



petite



moyenne




grande

La citrouille a



nervures



La citrouille mesure



de haut.